

# 7. PROMETNA PRAVILA

# 1. Što mora učiniti vozač prije započinjanja neke radnje vozilom u prometu?

X uvjeriti se da radnju može obaviti bez opasnosti  
za druge sudionike u prometu

uvjeriti se da radnju može obaviti uz što manji  
razmak između vozila

## 2. Kako se vozač može uvjeriti da može započeti neku radnju vozilom?

okretanjem vozila

X pogledom ispred vozila i preko ramena

X pogledom u unutarnje zrcalo

### 3. Kako je vozač dužan obavijestiti druge sudionike u prometu o svojim namjerama?

x

jasnim i pravodobnim upozorenjem dajući im znak pomoću pokazivača smjera

naizmjeničnim davanjem zvučnog signala

ne treba ih obavješćivati davajući znak

# 4. Kako vozač motornog vozila daje znakove ostalim sudionicima u prometu?

X

stop-svjetlima

odgovarajućim znakom tijela

X

pokazivačima smjera

# 5. Koliko dugo vozač mora davati znak pokazivačima sudionicima u prometu?

samo u trenutku započinjanja radnje

samo na kraju radnje


X

za cijelo vrijeme obavljanja radnje

6. Koja svjetla moraju biti upaljena na motornom vozilu za vrijeme vožnje danju u zimskom razdoblju računanja vremena?

duga svjetla

samo pozicijska svjetla



dnevna ili kratka svjetla

# 7. Što je dužan učiniti vozač koji se vozilom uključuje u promet na cesti?

X

propustiti sva vozila koja se kreću cestom na koju se uključuje

propustiti samo vozila koja mu dolaze ususret

X

propustiti pješake koji se kreću cestom na koju se uključuje



## 8. Namjeravate se vozilom uključiti u promet u situaciji kao na slici? Kako ćete postupiti?



X

uključiti pokazivač smjera

propustiti samo vozila koja dolaze s lijeve strane

X

propustiti pješake koji se kreću nogostupom

# 9. Što mora učiniti vozač koji se sa zemljane ceste uključuje na cestu sa suvremenim kolničkim zastorom?

X

zaustaviti vozilo kako bi propustio vozila koja nailaze cestom

nastaviti vožnju bez zaustavljanja ako nema vozila

X

ukloniti blato s kotača ako ga ima

10. Namjeravate se vozilom s ceste bez suvremenoga kolničkog zastora uključiti u promet u situaciji kao na slici? Kako ćete postupiti?



X

uključiti pokazivač smjera

X

uvjeriti se da to možete učiniti sigurno

uključiti duga svjetla

11. Kako mora postupiti vozač prema vozilu javnog prijevoza putnika kada se to vozilo uključuje u promet sa stajališta koje se nalazi izvan kolnika?

x

dužan mu je omogućiti uključivanje

nije mu dužan omogućiti uključivanje

dužan mu je omogućiti uključivanje samo ako organizirano prevozi djecu

12. Kako ćete postupiti, u situaciji kao na slici, prema autobusu koji se uključuje na stajalište u promet?



x


omogućiti uključivanje autobusa u promet

upotrijebiti zvučni znak upozorenja i  
povećati brzinu

obići autobus i voziti prometnom trakom za  
suprotan smjer

13. Koju prometnu površinu vozač mora u pravilu koristiti za kretanje motornog vozila?

nogostup



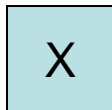
isključivo kolnik

pješačku zonu

# 14. Kako se mora kretati vozač motornog vozila obilježenom prometnom trakom?

uz desni rub prometne trake

uz lijevi rub prometne trake



sredinom prometne trake

15. Sustigli ste vozilo u situaciji kao na slici. Kako se kreće vozač vozila ispred u situaciji kao na slici?



sredinom kolnika

uz desni rub prometne trake

X

sredinom prometne trake



# 16. Kojom se prometnom trakom, u pravilu, dužan kretati vozač vozilom?

prometnom trakom koja se proteže sredinom kolnika

X

prometnom trakom koja se proteže uz desni rub kolnika

prometnom trakom koja se proteže uz lijevi rub kolnika

# 17. Kako je dužan kretati se vozač vozilom kolnikom na kojem prometne trake nisu obilježene?

što bliže sredini kolnika

x

što bliže desnom rubu kolnika

lijevom stranom kolnika

# 18. Kako morate voziti kolnikom na kojem prometne trake nisu obilježene u situaciji kao na slici?



sredinom kolnika

X

desnom stranom u smjeru vožnje

što bliže lijevom rubu kolnika u smjeru vožnje

19. Mogu li vozači za kretanje vozila koristiti prometnu traku koja se ne prostire uz desni rub kolničke trake u situaciji kao na slici?



X

mogu ako voze brže od vozila u desnoj prometnoj traci

X

mogu ako svojom vožnjom ne ometaju vozila koja se kreću iza njih

mogu ako voze najmanjom brzinom 120 km/h

20. Zašto vozači za kretanje vozila mogu koristiti prometnu traku koja se ne prostire uz desni rub kolničke trake u situaciji kao na slici?



zato što to propis dopušta

zato što svojom vožnjom ne ometaju vozila koja se kreću iza njih

zato što ne mogu razviti brzinu veću od 40 km na sat

# 21. Smijete li se svojim vozilom kretati srednjom prometnom trakom na cesti u situaciji kao na slici?



X

smijete kada se pretječe vozila koja se kreću sporije

smijete kada se mora zaustaviti zbog kvara na vozilu

ne smijete, jer je ta traka namijenjena samo za spora

22. Vozite cestom desnom prometnom trakom u situaciji kao na slici. Što ne smijete činiti svojim vozilom?



voziti lijevom prometnom trakom u smjeru vožnje


kretati se vozilom unatrag

X


prelaziti središnju udvojenju uzdužnu putnu crtu

# 23. Što vozač ne smije činiti svojim vozilom na cesti na kojoj su kolničke trake odvojene?

voziti unatrag



voziti u suprotnom smjeru



prelaziti iz jedne kolničke trake u drugu



# 24. U kojim slučajevima se vozač svojim vozilom na cesti može kretati unatrag?

samo ako su na cesti najmanje dvije prometne trake za kretanje vozila u jednom smjeru

x

ako će to učiniti samo na kratkom dijelu ceste

x

ako ne ugrožava ili ne ometa druge sudionike u prometu

25. Smije li vozač svojim vozilom na cesti za dvosmjerni promet u situaciji kao na slici voziti unatrag?



ne smije jer je cesta s dvosmjernim prometom

X

smije ako to čini samo na kratkom dijelu ceste

X

smije ako ne ugrožava ili ne ometa druge sudionike u prometu

## 26. Što vozač mora uključiti na vozilu za vrijeme kretanja unatrag?

lijevi pokazivač smjera

X


sve pokazivače smjera

desni pokazivač smjera

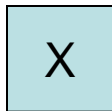
27. Vozač vozila ispred ima uključene sve pokazivače smjera. Što to može značiti?



da je zaustavljen zbog propuštanja pješaka



da vozi unatrag



da je zaustavljen zbog kvara na vozilu

# 28. Kojom se stranom kolnika mora kretati vozač ako se svojim vozilom vozi unatrag?

onom stranom na kojoj je manji intenzitet prometa

x

onom stranom kojom se do tada kretao vožnjom unaprijed

onom stranom koja se proteže uz lijevi rub kolnika

## 29. Kako treba postupiti vozač vozila koji se kreće unatrag?



propustiti vozilo koje dolazi iz suprotnog smjera

X

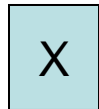
propustiti vozilo koje dolazi iza njegovog vozila

X

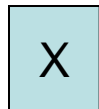
uključiti sve pokazivače smjera

# 30. Prema čemu je vozač dužan prilagoditi brzinu kretanja vozila?

prema maksimalnoj snazi motora vozila



prema osobinama i stanju ceste



prema vidljivosti i preglednosti

# 31. Zašto je vozač dužan prilagoditi brzinu kretanja vozila?

- da vozilo može pravodobno zaustaviti pred svakom zaprekom na cesti
- da može postupiti prema prometnom pravilu ili znaku
- da može što je moguće brže stići do odredišta



## 32. Prema čemu ste dužni prilagoditi brzinu kretanja vozila?



X

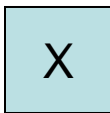
prema vidljivosti i preglednosti

X


prema ograničenju brzine na prometnom znaku

prema maksimalnoj snazi motora vozila

### 33. Prema čemu ste dužni prilagoditi brzinu kretanja vozila?



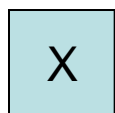
prema vidljivosti i preglednosti



prema gustoći prometa

prema maksimalnoj snazi motora vozila

34. Koliko je ograničenje brzine kretanja vozila na cesti u naselju u kojemu brzina kretanja nije određena posebnim prometnim znakom?



50 km na sat

60 km na sat

80 km na sat


35. Koliko je ograničenje brzine kretanja vozila na cesti u naselju u kojemu brzina kretanja nije određena posebnim prometnim znakom?

50

km na sat

36. Kolika je najveća dopuštena brzina kretanja vozila na autocesti?

120 km na sat



130 km na sat

140 km na sat

37. Kolika je najveća dopuštena brzina kretanja vozila na autocesti?

130

km na sat

38. Kolika je najveća dopuštena brzina kretanja vozila na brzoj cesti i cesti namijenjoj isključivo za promet motornih vozila?

90 km na sat

100 km na sat

110 km na sat

39. Kojom najvećom dopuštenom  
brzinom smijete voziti brzom cestom u  
situaciji kao na slici?



100 km na sat

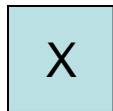


40. Kolika je najveća dopuštena brzina kretanja vozila na cesti, osim na autocesti, brzjoj cesti i cesti namijenjoj isključivo za promet motornih vozila?

90

km na sat

41. Koliko iznosi najveća dopuštena brzina kretanja vozila koje vuče drugo neispravno vozilo?




40 km na sat

50 km na sat

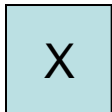
60 km na sat

## 42. Zašto se vozač mora približavati raskrižju s povećanim oprezom?

kako bi što brže prošao kroz raskrižje

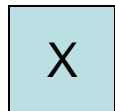


kako bi uočio prometne znakove

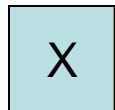


kako bi sigurno prošao raskrižjem

# 43. Po čemu najčešće vozač može prepoznati raskrižje?



po prometnim znakovima



po nailasku vozila iz poprečnih smjerova

po reklamnim panoima

# 44. Što je dužan učiniti vozač koji se vozilom približava raskrižju?

X


prilagoditi brzinu prometnim uvjetima

povećati brzinu i što prije proći kroz raskrižje

X

utvrditi način uređenja odvijanja prometa na raskrižju

45. Koju prometnu traku je dužan izabrati vozač za prolazak raskrižjem?



prometnu traku kojom namjerava proći raskrižjem

bilo koju prometnu traku

prometnu traku kojom će brže proći raskrižjem

# 46. Što je prestrojavanje?

prelaženje vozilom iz jedne u drugu prometnu traku radi bržega kretanja

x

zauzimanje takvog položaja vozilom na prometnoj traci iz kojeg se može na siguran način izvesti radnja s vozilom

prolaženje vozilom pokraj drugog vozila koje se kreće u istom smjeru

# 47. Što je mijenjanje prometne trake?

prelaženje vozilom u drugu prometnu traku namijenjenu za promet iz suprotnog smjera

x

prelaženje vozilom iz jednu u drugu prometnu traku za promet u istom smjeru



48. Na koji način se vozač može pripremiti za promjenu prometne trake?

x

ubrzavanjem vozila

x

usporavanjem vozila

naglim okretanjem kotača upravljača

# 49. O čemu se mora voditi računa prilikom mijenjanja prometne trake?

o bočnim smetnjama uz cestu

X

o sigurnosti drugih sudionika

X

o položaju vozila, smjeru i brzini vožnje

# 50. Što morate učiniti prije svakog mijenjanja prometne trake?

upozoriti druge sudionike u prometu  
uključivanjem svih pokazivača smjera

x

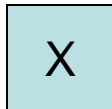
upozoriti druge sudionike u prometu dajući  
im znak pokazivačem smjera

upozoriti vozača vozila ispred  
naizmjeničnim paljenjem dugih i kratkih  
svjetala

# 51. Koja opasnost može prijetiti vozaču prilikom mijenjanja prometne trake?

pojava vozila iz suprotnog smjera

pojava vozila s bočnih cesta



pojava vozila u mrtvom kutu

## 52. Što mora učiniti vozač koji želi sigurno proći raskrižjem?

x

pravodobno se prestrojiti

zauzeti položaj u prometnoj traci u kojoj je najmanje vozila

x

zauzeti položaj u prometnoj traci kojom namjerava proći raskrižjem

# 53. Kako ćete postupiti ako ste pred raskrižjem zauzeli vozilom prometnu traku kojom ne namjeravate proći kroz raskrižje?

možete promijeniti prometnu traku dok je na semaforu crveno svjetlo

možete promijeniti prometnu traku kada vozilom uđete u raskrižje

X

morate nastaviti vožnju u smjeru koji određuje oznake na kolniku za prometnu traku u koju ste se prestrojili

# 54. Kako ćete postupiti na raskrižju cesta iste važnosti?

propustiti vozila koja nailaze s vaše lijeve  
strane

x

propustiti vozila koja nailaze s vaše desne  
strane

55. Kako ćete, kao vozač crnog automobila koji vozi ravno u situaciji kao na slici, postupiti na raskrižju cesta iste važnosti?



x

propustiti crveni automobil

voziti prije crvenog automobila

dogovoriti se oko propuštanja



# 56. Koja vozila morate propustiti na raskrižju kada svojim vozilom skrećete ulijevo?

X

vozila koja, dolazeći vam iz suprotnog smjera, zadržavaju smjer kretanja

X

vozila koja, dolazeći vam iz suprotnog smjera, skreću udesno

vozila koja, dolazeći vam iz suprotnog smjera, skreću ulijevo

57. Vozač crvenog automobila namjerava skrenuti ulijevo u situaciji kao na slici. Vi kao vozač crnog automobila vozite ravno. Kako ćete postupiti?



propustiti crveni automobil

X


voziti prije crvenog automobila

dogovoriti se oko propuštanja

58. Koja vozila ste dužni propustiti na raskrižju cesta iste važnosti bez obzira na smjer iz kojeg dolaze, osim ako postavljenim prometnim znakom nije drukčije određeno?

teretne automobile

motocikle i mopede



vozila koja se kreću po tračnicama

# 59. Kako ćete postupiti u situaciji kao na slici?



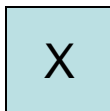
proći prije tramvaja

propustiti tramvaj

60. Kako ćete postupiti kada svojim vozilom ulazite na cestu koja je prometnim znakom označena kao cesta s prednošću prolaska?

propustiti isključivo vozila koja nailaze s lijeve strane

propustiti isključivo vozila koja se kreću velikom brzinom



propustiti sva vozila koja se kreću tom cestom

61. Kako ćete postupiti kada svojim vozilom ulazite s ceste bez suvremenoga kolničkog zastora na cestu sa suvremenim kolničkim zastorom i kada ta cesta nije prometnim znakom označena kao cesta s prednošću prolaska?

propustiti isključivo vozila koja nailaze s desne strane

x

propustiti sva vozila koja se kreću tom cestom

propustiti vozila koja dolaze isključivo iz suprotnog smjera

62. Približavate se vozilom raskrižju u situaciji kao na slici? Kako ćete postupiti?



X

propustiti crveni automobil

voziti prije crvenog automobila

63. Kako ćete postupiti kada pri skretanju svojim vozilom presijecate biciklističku stazu ili traku što se pruža uzduž kolnika kojim se krećete?

skrenuti prije vozača bicikla ako se kreće biciklističkom stazom ili trakom

X

propustiti vozača bicikla koji se kreće biciklističkom stazom ili trakom



# 64. Koja je vozila dužan propustiti vozač vozila koje skreće ulijevo?

X

vozila koja dolazeći iz suprotnog smjera skreću udesno

vozila koja nailaze s njegove lijeve strane

X

vozila koja dolazeći iz suprotnog smjera zadržavaju smjer kretanja ili skreću udesno

# 65. Koja je vozila vozač dužan propustiti na raskrižju cesta iste važnosti?

X

vozila s prednošću prolaska

vozila javnog prijevoza putnika

X

vozila koja dolazeći iz suprotnog smjera zadržavaju smjer kretanja ili skreću udesno

66. Kojim se od prometnih znakova uređuje odvijanje prometa na raskrižju?



67. Kojim se od prometnih znakova uređuje odvijanje prometa na raskrižju?



68. Približavate se vozilom raskrižju na kojem se prometom upravlja semaforima.

Kada smijete nastaviti vožnju?

nakon što propustite sve sudionike u prometu koji se kreću smjerom u kojemu je promet dopušten ne čekajući promjenu svjetla semaforu

X

nakon što za vaš smjer kretanja upali zeleno svjetlo

odmah, bez obzira na to koje je svjetlo upaljeno na semaforu

69. Približavate se vozilom raskrižju i namjeravate voziti ravno u situaciji kao na slici. Kako ćete postupiti?



X

zaustaviti vozilo na potrebnom razmaku iza zaustavljenog vozila

X

nastaviti vožnju nakon što se upali zeleno svjetlo

prestrojiti se u lijevu prometnu traku i nastaviti vožnju

# 70. Kada vozač ne smije vozilom ući na raskrižje iako je na semaforu upaljeno zeleno svjetlo?

X

ako se zbog gustoće prometa mora zaustaviti u raskrižju

ako je gustoća prometa s bočnih strana velika

X

ako se zbog gustoće prometa mora zaustaviti na obilježenom pješačkom prijelazu

# 71. Kako ćete postupiti u situaciji kao na slici?



x

propustiti sivo vozilo

voziti prije sivog vozila


propustiti vozilo ako dolazi s lijeve strane



72. Zbog čega ste dužni u situaciji kao na slici propustiti sivo vozilo?



zbog toga što nailazi cestom bez  
suvremenoga kolničkog zastora



zbog toga što nailazi s desne strane

zbog toga što se nalazite na sporednoj cesti

## 73. Kako ćete postupiti u situaciji kao na slici?



X

propustiti vozilo koje nailazi s moje desne strane  
voziti prije vozila koje dolazi iz suprotnog smjera


X

propustiti vozilo koje dolazi iz suprotnog smjera

# 74. Kako ćete postupiti u situaciji kao na slici?



propustiti crveni automobil



voziti prije crvenog automobila

75. Zbog čega ćete u situaciji kao na slici voziti prije crvenog automobila?



X

zbog toga što nailazi s lijeve strane

X

zbog toga što nailazite s desne strane

zbog toga što se nailazi na sporednoj cesti

# 76. Kako ćete postupiti u situaciji kao na slici?



x

propustiti crveni automobil

voziti prije crvenog automobila

propustiti vozilo ako nailazi s lijeve strane

77. Zbog čega morate, u situaciji kao na slici, propustiti crveni automobil?




x

zbog toga što nailazi s desne strane, a kreće se cestom s prednošću prolaska


zbog toga što nailazi s desne strane, a kreće se sporednom cestom

# 78. Kako ćete postupiti u situaciji kao na slici?



propustiti crveni automobil

voziti prije crvenog automobila



propustiti sivi automobil

# 78. Kako ćete postupiti u situaciji kao na slici?



x

propustiti oba automobila

voziti poslije crvenog a prije sivog automobila

voziti prvi raskrižjem



79. Zbog čega morate, u situaciji kao na slici, propustiti crveni automobil?



X

zbog toga što nailazi s desne strane

zbog toga što se kreće cestom s prednošću prolaska

zbog toga što se nalazite na sporednoj cesti

# 80. Kako ćete postupiti u situaciji kao na slici?



X

propustiti vozilo policije

voziti prije vozila hitne pomoći

X

propustiti vozilo hitne pomoći

# 81. Kako ćete postupiti u situaciji kao na slici?



propustiti crni automobil

X

propustiti crveni automobil

X

voziti prije crnog automobila

82. Zbog čega ste obvezni nakon što propustite crveni automobil u situaciji kao na slici voziti prije crnog automobila?



zbog toga što crni automobil nailazi s desne strane

zbog toga što crni automobil nailazi sa sporedne ceste

X

zbog toga što nailazite s njegove desne strane

## 83. Kako ćete postupiti u situaciji kao na slici?



x

propustiti vozilo iz suprotnog smjera

voziti prije vozila iz suprotnog smjera

voziti prije vozila ako nailazi s desne strane

84. Zbog čega morate, u situaciji kao na slici, propustiti vozilo koje nailazi iz suprotnog smjera?




- zbog toga što zadržava smjer kretanja
- zbog toga što nailazi s glavne ceste
- zbog toga što vozilom skrećete ulijevo


# 85. Kako ćete postupiti u situaciji kao na slici?



voziti prije vozila koje nailazi iz suprotnog smjera



obvezno zaustaviti vozilo



propustiti vozilo koje nailazi iz suprotnog smjera

86. Zbog čega morate, u situaciji kao na slici, propustiti vozilo koje nailazi iz suprotnog smjera?



x

zbog toga što zadržava smjer kretanja

zbog toga što nailazi cestom s prednošću prolaska



# 87. Kako ćete postupiti u situaciji kao na slici?



x

propustiti autobus

voziti prije autobusa

88. Zbog čega morate, u situaciji kao na slici, propustiti autobus?



X

zbog toga što autobus zadržava smjer kretanja

zbog toga što autobus nailazi cestom s  
prednošću  
prolaska

X

# 89. Kako ćete postupiti u situaciji kao na slici?



x

propustiti vozilo iz suprotnog smjera

voziti prije vozila iz suprotnog smjera

90. Zbog čega morate, u situaciji kao na slici, propustiti vozilo koje nailazi iz suprotnog smjera?



X

zbog toga što to vozilo skreće udesno

zbog toga što to vozilo nailazi cestom s prednošću prolaska

X

zbog toga što vozilom skrećete ulijevo

# 91. Kako ćete postupiti u situaciji kao na slici?



propustiti motocikl i voziti prije osobnog automobila

propustiti osobni automobil i voziti prije motocikla

propustiti oba vozila

## 92. Kako ćete postupiti u situaciji kao na slici?



voziti prvi kroz raskrižje

voziti zadnji kroz raskrižje

X

voziti kroz raskrižje nakon što propustite motocikl

# 93. Kako ćete postupiti u situaciji kao na slici?



propustiti osobni automobil



voziti prije osobnog automobila

# 94. Kako ćete postupiti u situaciji kao na slici?



X

voziti prvi kroz raskrižje

propustiti osobni automobil

voziti zadnji kroz raskrižje



# 95. Kako ćete postupiti u situaciji kao na slici?



voziti prije crnog automobila

X

propustiti crveni automobil

X

propustiti crni automobil

# 96. Kako ćete postupiti u situaciji kao na slici?



X

obvezno se zaustaviti

X

voziti zadnji kroz raskrižje

voziti prvi kroz raskrižje

# 97. Kako ćete postupiti u situaciji kao na slici?



voziti prije motocikla



voziti prije autobusa



propustiti motocikl

# 98. Kako ćete postupiti u situaciji kao na slici?



propustiti autobus

propustiti oba vozila

X

propustiti motocikl i voziti prije autobusa

# 99. Zbog čega morate, u situaciji kao na slici, propustiti motocikl?



X

zbog toga što nailazim na cestu s prednošću prolaska

zbog toga što nailazite s lijeve strane

zbog toga što zadržavate smjer vožnje

100. Kako ćete postupiti ako je na semaforu upaljeno žuto trepteće svjetlo u situaciji kao na slici?



X

propustiti motocikl

propustiti autobus

X

voziti prije autobusa

101. Zbog čega ste u situaciji kada je na semaforu upaljeno žuto trepteće svjetlo, kao na slici, dužni propustiti motocikl?



zbog toga što nailazi s moje desne strane

X

zbog toga što se kreće cestom s prednošću prolaska

zbog toga što vozilom nailazite na sporednu cestu

102. Kako ćete postupiti ako je na semaforu upaljeno žuto trepteće svjetlo u situaciji kao na slici?



X

propustiti motocikl i voziti prije autobusa

voziti prvi kroz raskrižje

voziti zadnji kroz raskrižje



# 103. Što mora poduzeti vozač vozila prije skretanja?

X

pravilno se prestrojiti

povećati brzinu vozila

X

predvidjeti ponašanje drugih sudionika u prometu

# 104. Koju ćete prometnu traku koristiti za skretanje udesno ako prometnim znakom ili oznakama na kolniku nije drukčije određeno?

prometnu traku koja se prostire uz lijevi rub kolnika

X

prometnu traku koja se prostire uz desni rub kolnika

prometnu traku namijenjenu za promet vozila iz suprotnog smjera

105. Koju ćete prometnu traku koristiti za skretanje ulijevo ako prometnim znakom ili oznakama na kolniku nije drukčije određeno?

prometnu traku namijenjenu za promet vozila iz suprotnog smjera

prometnu traku koja se prostire uz središnju crtu na kolniku

prometnu traku koja se prostire uz desni rub kolnika

106. Koju ćete prometnu traku koristiti za skretanje ulijevo na cesti s jednosmjernim prometom ako prometni znakom ili oznakom na kolniku nije drukčije određeno?

X

prometnu traku koja se prostire uz lijevi rub ceste

prometnu traku koja se prostire uz desni rub ceste

# 107.Što je mimoilaženje?

prolaženje vozilom pokraj drugog vozila koje se po istom kolniku kreće istim smjerom

X

prolaženje vozilom pokraj drugog vozila koje se po istom kolniku kreće iz suprotnog smjera

# 108. Što ste dužni učiniti u situaciji kao na slici?



povećati brzinu vožnje

- prema potrebi pomaknuti svoje vozilo k desnom rubu kolnika
- ostaviti dovoljan razmak sa svoje lijeve strane

109.S koje se strane,u pravilu,obavlja mimoilaženje?

s desne strane

s lijeve strane

110.S koje se strane mimoilaze vozila  
kada na raskrižju dolaze iz suprotnih  
smjerova i skreću ulijevo?

X

s desne strane

s lijeve strane



# 111.Što ste dužni učiniti zbog neke zapreke na cesti ako procijenite da nemate dovoljno prostora za sigurno mimoilaženje?

povećati brzinu i što prije proći pokraj zapreke

X usporiti kretanje svog vozila, a po potrebi i zaustaviti ga

X propustiti vozilo iz suprotnog smjera

# 112. Kako ćete postupiti u situaciji kao na slici?



X pravodobno uočiti i procijeniti prometnu situaciju  
ako nailazi vozilo iz suprotnog smjera, propustiti

ga

X

nastaviti vožnju uz povećan oprez

# 113. Kako ćete postupiti u situaciji kao na slici?



X

pravodobno uočiti i procijeniti prometnu situaciju

voziti prije vozila iz suprotnog smjera

X

propustiti vozilo iz suprotnog smjera

114. Koji je vozač dužan zaustaviti svoje vozilo i omogućiti mimoilaženje na cesti s velikim uzdužnim nagibom?

X vozač vozila koji se kreće niz nagib

vozač vozila koji se kreće uz nagib

115. Koje će se vozilo kretati unatrag kad se jedno od vozila koja se mimoilaze na velikom uzdužnom nagibu mora kretati unatrag?

svako vozilo koje se susrelo s vozilom koje vuče priključno vozilo

vozilo koje se susrelo s vozilom niže kategorije

vozilo koje se susrelo s vozilom više kategorije

116. Kada se na velikom uzdužnom nagibu na kojemu je mimoilaženje otežano susretnu vozila istih kategorija, koje se vozilo mora kretati unatrag i omogućiti mimoilaženje?

vozilo koje se kreće uz nagib

X

vozilo koje se kreće niz nagib

# 117.Što je pretjecanje?

prolaženje vozilom pokraj drugog vozila koje se kreće iz suprotnog smjera

X prolaženje vozilom pokraj drugog vozila koje se kreće u istom smjeru

prolaženje vozilom iz jedne u drugu prometnu traku za promet u istom smjeru

# 118.Što je obilaženje?

X prolaženje vozilom pokraj zaustavljenog ili parkiranoog vozila ili drugog objekta koji se nalazi na prometnoj traci kojom se vozilo kreće

prolaženje vozilom pokraj zaustavljenog ili parkiranoog vozila ili drugog objekta koji se nalazi na prometnoj traci za vozila iz suprotnog smjera



# 119. Kada vozač na cesti smije pretjecati?

- X samo ako ne ometa normalno kretanje vozila iz suprotnog smjera
- X ako na cesti ima dovoljno prostora za izvođenje te radnje
- X ako ne ometa kretanje vozila ispred njegovog vozila

# 120. Kada vozač na cesti ne smije pretjecati?

X kada ugrožava druge sudionike u prometu

kada nema prometa iz drugog smjera

X kada mu je pretjecanje zabranjeno prometnim znakom ili oznakama na kolniku

# 121.S koje se strane,u pravilu,obavlja pretjecanje?

s lijeve strane

s desne strane

122. Pretječe li vozač osobnog automobila teretni automobil, u situaciji kao na slici, propisno?



da, jer je to dopušteno oznakama na kolniku

ne, jer to nije dopušteno oznakama na kolniku

# 123. Smijete li započeti pretjecanje teretnog automobila u situaciji kao na slici?



ne smijete, jer to nije dopušteno oznakama na kolniku

X

smijete nakon što osobni automobil obavi pretjecanje

124.S koje se strane mora obilaziti  
pješački otok koji se nalazi na sredini  
kolnika ceste s dvosmjernim  
prometom?

s lijeve strane

s desne strane

125. Što je dužan učiniti vozač kojemu je dan znak za pretjecanje s njegove lijeve strane?

povećati brzinu kretanja

- pomaknuti svoje vozilo k desnom rubu kolnika
- ne povećavati brzinu kretanja dok drugo vozilo pretječe

126. Vozač vozila iza vas dao je znak pokazivačem smjera da namjerava pretjecati. Što ste dužni učiniti?

pomaknuti svoje vozilo k desnom rubu kolnika

povećati brzinu kretanja

ne povećavati brzinu kretanja dok vas drugo vozilo pretječe



127. Smije li vozač svojim vozilom pretjecati kolonu vozila?

smije

X

ne smije

# 128. Kada vozač vozilom ne smije početi pretjecati drugo vozilo?

X ako je vozač vozila iza vas počeo pretjecati

ako je prometna traka kojom namjerava pretjecati slobodna

X ako je vozač vozila ispred u istoj prometnoj traci dao znak da namjerava pretjecati

129. Smije li vozač osobnog automobila ispred vas pretjecati teretni automobil u situaciji kao na slici?



smije, jer je cesta dovoljno pregledna

X

ne smije, jer nailaze vozila iz suprotnog smjera

130.0 čemu morate voditi računa ako želite pretjecati teretni automobil?



- o tome pretječe li vas drugo vozilo
- o vozilima koja nailaze iz suprotnog smjera

# 131. Zbog čega ne smijete pretjecati oba vozila ispred vas u situaciji kao na slici?



- X zbog toga što prometna traka kojom namjeravate pretjecati nije slobodna na dovoljnoj udaljenosti
- zbog toga što je ispred kolona vozila
- zbog toga što je vozač vozila ispred dao znak da

132. Vozite iza crvenog automobila u situaciji kao na slici. Smijete li pretjecati?



smijete pretjecati

X

ne smijete pretjecati

smijete pretjecati jedno po jedno vozilo

# 133. Zbog čega se ne smije pretjecati vozila u situaciji kao na slici?



zbog toga što prometna traka kojom se namjerava pretjecati nije slobodna na dovoljnoj udaljenosti

X zbog toga što je to kolona vozila

zbog toga što je vozač vozila ispred dao znak da namjerava pretjecati

134. Na kojim mjestima na kolniku na kojemu se promet odvija u oba smjera, a koji ima po jednu traku namijenjenu za promet vozila u jednom smjeru, vozač ne smije pretjecati drugo vozilo?

- u tunelu
- na mostu
- ispred vrha prijevoja ceste



# 135. Što je dužan učiniti vozač koji pretječe drugo vozilo?

održavati potreban bočni razmak od vozila koje pretječe

voziti što bliže vozilu koje pretječe

pretjecati tako da ga ne ometa niti ugrožava

136. Je li vozač dužan nakon pretjecanja drugog vozila dati znak pokazivačem smjera da se namjerava vratiti na prometnu traku kojom se kretao prije pretjecanja?

jest dužan

nije dužan

# 137. Zbog čega ne smijete pretjecati vozilo u situaciji kao na slici?



zbog prometnog znaka “zabranjeno pretjecanje”

X

zbog oznaka na kolniku

X

zbog toga što je nepregledan zavoj

# 138. Smije li se u situaciji kao na slici pretjecati vozilo ispred?



smije nakon što prođe vozilo iz suprotnog smjera

X

ne smije jer to nije dopušteno prometnim propisima

smije jer nema prometnog znaka zabrane pretjecanja

139. Smije li vozač pretjecati drugo vozilo koje se približava obilježenom pješačkom prijelazu ili koje prelazi obilježeni pješački prijelaz?

smije pretjecati

ne smije pretjecati

smije ako nema pješaka

140. Smije li vozač obilaziti drugo vozilo koje se zaustavilo radi propuštanja pješaka koji prelaze preko obilježena pješačkog prijelaza?

X

ne smije obilaziti

smije obilaziti

141.Što se ne smije činiti vozilom ako se vozi cestom na kojoj postoje najmanje dvije prometne trake za promet u istom smjeru i na kojima su kolone vozila u situaciji kao na slici?



kretati se lijevom prometnom trakom

kretati se desnom prometnom trakom

X

prelaziti vozilom iz trake u traku (voziti slalom)

142. Što se smatra prekidom kretanja vozila na cesti u trajanju do tri minute osim prekida koji se čini da bi se postupilo po prometnom znaku ili pravilu?

zaustavljanje vozila

parkiranje vozila



143. Što se smatra prekidom kretanja vozila na cesti u trajanju duljem od tri minute osim prekida koji se čini da bi se postupilo po prometnom znaku ili pravilu?

X

parkiranje vozila

zaustavljanje vozila

# 144. Na kojim od ovih mjesta vozač ne smije zaustavljati ili parkirati svoje vozilo?

- na kojima bi mogao ugrožavati sigurnost prometa
- na kojima predstavlja smetnju za kretanje pješaka
- na kojima postoji organiziran način parkiranja vozila
- na kojima je to zabranjeno prometnim znakom

145. Smije li se zaustaviti ili parkirati vozilo u situaciji kao na slici?



smije se zaustaviti ili parkirati

ne smije se zaustaviti ili parkirati

smije se zaustaviti, ali se ne smije parkirati

146. Koliki najmanji razmak mora biti od obilježenoga pješačkog prijelaza i parkirano g vozila?

5 metara

147. Koliki mora biti najmanji razmak  
od raskrižja i zaustavljenog ili  
parkiranog vozila?

5 metara

148. Koliki mora biti najmanji razmak od nadvožnjaka, podvožnjaka, mosta i tunela i zaustavljenog ili parkiranog vozila?

15 metara

149. Kolika mora biti najmanja širina slobodnog prolaza na dijelu ceste od zaustavljenog ili parkiranoog vozila do pune uzdužne crte na kolniku?

3 metara

150. Kolika mora biti najmanja širina slobodnog prolaza na dijelu ceste od zaustavljenog ili parkiranoog vozila do suprotnog ruba kolnika?

4

metara



151. Smije li se zaustavljati ili parkirati vozilo na mjestima u situaciji kao na slici osim vozila osoba s invaliditetom?



smije

X

ne smije

# 152. Smije li se parkirati vozilo na mjestima u situaciji kao na slici?



X smije na udaljenosti većoj od 15 metara od prijelaza

ne smije na udaljenosti većoj od 15 metara od prijelaza

smije na udaljenosti manjoj od 15 metara od prijelaza  
samo do 3 minute

# 153. Smije li se zaustaviti vozilo na mjestima u situaciji kao na slici?



ne smije na udaljenosti manjoj od 15 metara od prijelaza

X

smije na udaljenosti manjoj od 15 metara od prijelaza

154. Kada je vozač dužan obilježiti svoje vozilo posebnim znakom za označavanje vozila zaustavljenog na kolniku (sigurnosni trokut) u situaciji kao na slici?



X kada je bio prisiljen vozilo zaustaviti na mjestu ili dijelu ceste gdje je zabranjeno zaustavljanje i parkiranje

kad je zaustavljen na nogostupu ili mjestu rezerviranom za vozila osoba s invaliditetom

X kad je vozilo zaustavljeno na kolniku na mjestu gdje ga vozači vozila koja nailaze ne mogu ili teško mogu pravodobno uočiti

155.Što vozač mora učiniti ako je zaustavio vozilo na kolniku i obilježio ga posebnim znakom za označivanje zaustavljenog vozila na kolniku(sigurnosni trokut)?

uključiti svjetla za označivanje vozila

uključiti desni pokazivač smjera

uključiti sve pokazivače smjera

156. Na kojoj udaljenosti vozač mora postaviti poseban znak za označivanje vozila zaustavljenog na kolniku (sigurnosni trokut) na cesti izvan naselja?



100

metara

# 157. Kako se označuje zaustavljena kolona vozila na cesti izvan naselja?

jednim sigurnosnim trokutom

s dva sigurnosna trokuta postavljena jedan iza drugoga

s dva sigurnosna trokuta postavljena jedan pokraj drugoga

158. Kako mora postupiti vozač koji se vozilom približava prijelazu ceste preko željezničke pruge u istoj razini, u situaciji kao na slici?



proći prije vlaka

obići polubranike dok nema vlaka

X

zaustaviti vozilo ispred polubranika



# 159. Zbog čega je vozač dužan prilagoditi brzinu vožnje kada se vozilom približava prijelazu ceste preko željezničke pruge u istoj razini?

zbog toga da bi mogao proći preko prijelaza prije vlaka

X zbog toga da bi se sigurno uspio zaustaviti pred uređajem za zatvaranje prometa

X zbog toga da bi se sigurno uspio zaustaviti pred uređajem za davanje znakova kojima se najavljuje približavanje vlaka

160. Je li vozač dužan zaustaviti svoje vozilo ispred prijelaza ceste preko željezničke pruge u istoj razini kada se daju svjetlosni ili zvučni znaci koji najavljuju približavanje vlaka?

X

dužan je zaustaviti svoje vozilo

dužan je zaustaviti svoje vozilo ako je vlak neposredno ispred prijelaza

nije dužan zaustaviti svoje vozilo

# 161. Što se označuje svjetlosnim znakom na slici?



mjesto na kojemu se obavljaju radovi

X prijelaz ceste preko željezničke pruge

raskrižje na kojemu se prometom upravlja prometnim svjetlima

# 162.Što se ne smije činiti vozilom na autocesti,brzoj cesti i cesti namijenjenoj isključivo za promet motornih vozila?

X polukružno okretati vozilo

pretjecati druga vozila

X zaustavljati i parkirati vozilo osim na površinama posebno uređenim za to

X vozilom prelaziti iz trake u traku(slalom vožnja)

# 163. Što se ne smije činiti vozilom vozeći autocestom?



X polukružno okretati vozilo i kretati se vozilo unatrag

pretjecati druga vozila

X

požurivati vozila ispred sebe davanjem svjetlosnih i

164. Gdje je vozač dužan, zbog neispravnosti na vozilu, zaustaviti vozilo na kolniku autoceste u situaciji kao na slici?



uz rub desne prometne trake

na traci za zaustavljanje vozila u nuždi

na traci za usporavanje

# 165. Kojom se prometnom trakom na autocesti moraju kretati vozila?



X

krajnjom desnom prometnom trakom ako nije zakrčena vozilima u koloni

zaustavnom trakom ako je desna prometna traka zakrčena vozilima u koloni

bilo kojom prometnom trakom

# 166. Uključujete se na autocestu u situaciji kao na slici? Kako ćete postupiti?



- X postupno ubrzavati vozilo trakom za ubrzavanje
- zaustaviti vozilo na početku trake za ubrzavanje
- X davati znak lijevim pokazivačem smjera



167. Koju prometnu traku mora koristiti vozač koji se vozilom isključuje iz prometa na autocesti?

traku za zaustavljanje u nuždi

desnu prometnu traku

traku za usporavanje

168. Namjeravate voziti u Perušić u situaciji kao na slici. Kako ćete postupiti?



usporavati i potom prijeći na traku za usporavanje

X

uključiti desni pokazivač smjera

X

prijeći na traku za usporavanje i potom

169. Na kojem dijelu kolnika vozač koji se isključuje iz prometa na autocesti mora početi usporavati svoje vozilo?

na desnoj prometnoj traci

X

na traci za usporavanje vozila

# 170. Što se ne smije činiti vozilom na cesti u situaciji na slici?



X polukružno okretati vozilo i kretati se vozilom unatrag

pretjecati druga vozila

X požurivati vozila ispred sebe davanjem svjetlosnih i zvučnih znakova

# 171. Kojom se prometnom trakom na brznoj cesti moraju kretati vozila u situaciji kao na slici?



X desnom prometnom trakom ako nije zakrčena vozilima u koloni

zaustavnom trakom ako je desna prometna traka zakrčena vozilima u koloni

X lijevom prometnom trakom ako pretječu

# 172. Što se ne smije činiti vozilom tijekom vožnje kroz tunel u situaciji kao na slici?



kretati se desnom prometnom trakom

X zaustavljati ili parkirati vozilo

X voziti unatrag

# 173. Kako morate postupiti za vrijeme vožnje kroz tunel u situaciji kao na slici?



X umjesto dugih svjetala imati uključena kratka svjetla

voziti samo sa svjetlima za označivanje vozila

X pridržavati se prometnih znakova zabrana i ograničenja

174. U koliko smjerova se odvija promet u tunelu, u situaciji kao na slici?



u jednom smjeru

X

u dva smjera



175. U koliko smjerova se odvija promet u tunelu, u situaciji kao na slici?



u jednom smjeru

X

u dva smjera

# 176. Kako ćete postupiti u slučaju požara na vašem vozilu za vožnje u tunelu?

- zaustaviti vozilo i isključiti motor vozila
- ako se požar ne može ugasiti, napustiti vozilo i krenuti prema skloništu

nastaviti voziti do izlaska iz tunela

# 177. Koja se vozila smatraju vozilima pod pratnjom?

vozila hitne pomoći

X

vozila koja prate pripadnici policije

vozila vatrogasne službe

# 178. Kako se morate ponašati ako susretnete vozila pod pratnjom?

nastaviti kretanje uz povećan oprez

X zaustaviti svoje vozilo

X držati se naredaba koje daju osobe iz pratnje

# 179. Koja se vozila smatraju vozilima s pravom prednosti prolaska?

X vozila koja daju posebne zvučne i svjetlosne znakove plave boje

vozila koja daju posebne zvučne i svjetlosne znakove žute boje

vozila koja daju posebne zvučne i svjetlosne znakove plave i crvene boje

# 180. Koja vozila su vozila s pravom prednosti prolaska?

X vozila službe hitne pomoći

X vozila vatrogasne službe

vozila koja prate izvanredni prijevoz

# 181. Kako se morate ponašati u susretu s vozilima s pravom prednosti prolaska?



X smanjiti brzinu i povećati pozornost prema tim vozilima

X omogućiti prolazak tim vozilima

nastaviti vožnju povećanom brzinom

# 182. Kada vozila s pravom prednosti prolaska nemaju pravo na prednost prolaska?

X

kada se susretnu s vozilima pod pratnjom

kada nailaze na cestu s prednošću prolaska

X

kada je na raskrižju gdje se prometom upravlja semaforima upaljeno crveno svjetlo